

## Exercice 1

$$1) a) A \times B = \begin{pmatrix} 1 & 1 & 1 \\ 2 & 4 & 5 \\ 5 & 6 & 8 \end{pmatrix} \begin{pmatrix} 2 & -2 & 1 \\ 9 & 3 & -3 \\ -8 & -1 & 2 \end{pmatrix} = \begin{pmatrix} 3 & 0 & 0 \\ 0 & 3 & 0 \\ 0 & 0 & 3 \end{pmatrix} = 3I_3.$$

$$b) A \times B = 3I_3 \Leftrightarrow A \times \frac{1}{3}B = I_3.$$

$$\text{Donc } A \text{ est inversible et sa matrice inverse est : } A^{-1} = \frac{1}{3}B = \begin{pmatrix} \frac{2}{3} & -\frac{2}{3} & \frac{1}{3} \\ 3 & 1 & -1 \\ -\frac{8}{3} & -\frac{1}{3} & \frac{2}{3} \end{pmatrix}.$$

2) a) On désigne par  $x$  : le nombre de pantalons coudés de type  $P_1$ .

$y$  : le nombre de pantalons coudés de type  $P_2$ .

$z$  : le nombre de pantalons coudés de type  $P_3$ .

• L'atelier confectionne 400 pantalons, donc :  $x + y + z = 400$ .

• Le coût de couture d'un pantalon de type  $P_1$  est égal à 8 *dinars*, le coût de couture d'un pantalon de type  $P_2$  est égal à 16 *dinars*, le coût de couture d'un pantalon de type  $P_3$  est égal à 20 *dinars* et le coût total pour la couture de ces pantalons est égal à 5680 *dinars*, donc :

$$8x + 16y + 20z = 5680 \text{ soit } \mathbf{2x + 4y + 5z = 1420}$$

• La longueur du tissu d'un pantalon de type  $P_1$  est égal à 1 *m*, la longueur du tissu d'un pantalon de type  $P_2$  est égal à 1,2 *m*, la longueur du tissu d'un pantalon de type  $P_3$  est égal à 1,6 *m* et la longueur total du tissu pour confectionner ces pantalons est égal à 492 *m*, donc :

$$x + 1,2y + 1,6z = 492 \text{ soit } \mathbf{5x + 6y + 8z = 2460}$$

$$\text{Ainsi la situation se traduit par le système } (S): \begin{cases} x + y + z = 400 \\ 2x + 4y + 5z = 1420 \\ 5x + 6y + 8z = 2460 \end{cases}$$

$$b) \bullet \text{ La matrice du système : } A = \begin{pmatrix} 1 & 1 & 1 \\ 2 & 4 & 5 \\ 5 & 6 & 8 \end{pmatrix}$$

$$\bullet \text{ La matrice des inconnues : } X = \begin{pmatrix} x \\ y \\ z \end{pmatrix}$$

$$\bullet \text{ La matrices des constantes : } C = \begin{pmatrix} 400 \\ 1420 \\ 2460 \end{pmatrix}$$

$$\text{L'écriture matricielle du système } (S) : \begin{pmatrix} 1 & 1 & 1 \\ 2 & 4 & 5 \\ 5 & 6 & 8 \end{pmatrix} \begin{pmatrix} x \\ y \\ z \end{pmatrix} = \begin{pmatrix} 400 \\ 1420 \\ 2460 \end{pmatrix} \Leftrightarrow AX = C.$$

$$c) AX = C \Leftrightarrow X = A^{-1}C \Leftrightarrow \begin{pmatrix} x \\ y \\ z \end{pmatrix} = \begin{pmatrix} \frac{2}{3} & -\frac{2}{3} & \frac{1}{3} \\ 3 & 1 & -1 \\ -\frac{8}{3} & -\frac{1}{3} & \frac{2}{3} \end{pmatrix} \begin{pmatrix} 400 \\ 1420 \\ 2460 \end{pmatrix} = \begin{pmatrix} 140 \\ 160 \\ 100 \end{pmatrix}.$$

On en déduit que :

Le nombre de pantalons coudés de type  $P_1$  est 140.

Le nombre de pantalons coudés de type  $P_2$  est 160.

Le nombre de pantalons coudés de type  $P_3$  est 100.

## Exercice 2

1) a)

Sommet	A	B	C	D	E	F	G
Degré	3	4	4	5	2	4	4

b) Le graphe ( $\Gamma$ ) est connexe et seulement deux de ses sommets sont de degré impair, donc il admet une chaîne eulérienne.

c) Le graphe ( $\Gamma$ ) est connexe mais ses sommets ne sont pas tous de degré pair, donc il n'admet pas un cycle eulérien.

2) La matrice associée à ce graphe :  $M = \begin{pmatrix} 0 & 1 & 1 & 1 & 0 & 0 & 0 \\ 1 & 0 & 1 & 1 & 0 & 0 & 1 \\ 1 & 1 & 0 & 1 & 0 & 1 & 0 \\ 1 & 1 & 1 & 0 & 0 & 1 & 1 \\ 0 & 0 & 0 & 0 & 0 & 1 & 1 \\ 0 & 0 & 1 & 1 & 1 & 0 & 1 \\ 0 & 1 & 0 & 1 & 1 & 1 & 0 \end{pmatrix}$

3) a) Il y a 6 chaînes de longueur 3 joignant le sommet A à lui-même, donc  $M^3 = P$ .

b) Il y a 10 chaînes de longueur 3 joignant le sommet F au sommet G.

## Exercice 3

1) Pour tout  $x \in \mathbb{R}$  on a :

- $-x \in \mathbb{R}$
- $f(-x) = e^{-x} - e^x - x = -(e^x - e^{-x} + x) = -f(x)$

Donc la fonction  $f$  est impaire.

2) a) •  $\lim_{x \rightarrow +\infty} f(x) = \lim_{x \rightarrow +\infty} e^x - e^{-x} + x = \lim_{x \rightarrow +\infty} e^x - \frac{1}{e^x} + x = +\infty$ .

Car  $\lim_{x \rightarrow +\infty} e^x = \lim_{x \rightarrow +\infty} x = +\infty$  et  $\lim_{x \rightarrow +\infty} \frac{1}{e^x} = 0$ .

•  $\lim_{x \rightarrow +\infty} \frac{f(x)}{x} = \lim_{x \rightarrow +\infty} \frac{e^x - e^{-x} + x}{x} = \lim_{x \rightarrow +\infty} \frac{e^x}{x} - \frac{1}{xe^x} + 1 = +\infty$

Car  $\lim_{x \rightarrow +\infty} \frac{e^x}{x}$  et  $\lim_{x \rightarrow +\infty} \frac{1}{xe^x} = 0$ .

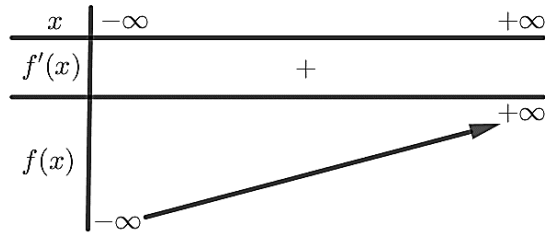
Interprétation graphique : la courbe ( $C$ ) admet une branche parabolique au voisinage de  $+\infty$  de direction elle de l'axe  $(O, \vec{j})$

b) Les fonctions  $x \mapsto e^x$ ,  $x \mapsto e^{-x}$  et  $x \mapsto x$  sont dérivables sur  $\mathbb{R}$ , donc  $f$  est dérivable sur  $\mathbb{R}$  et pour tout réel  $x$  on a :

$$f'(x) = e^x + e^{-x} + 1 > 0 \text{ car } e^x > 0 \text{ et } e^{-x} > 0 \text{ pour tout } x \in \mathbb{R}.$$

c)  $f$  est impaire et  $\lim_{x \rightarrow +\infty} f(x) = +\infty$ , alors  $\lim_{x \rightarrow -\infty} f(x) = -\infty$ .

Tableau de variation de  $f$  :

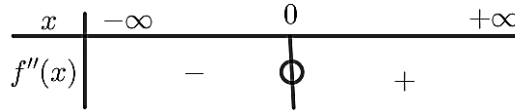


3) a)  $f'(x) = e^x + e^{-x} + 1, x \in \mathbb{R}$ .

Les fonctions  $x \mapsto e^x$  et  $x \mapsto e^{-x}$  sont dérivables sur  $\mathbb{R}$ , donc  $f'$  est dérivable sur  $\mathbb{R}$  et donc  $f$  est deux fois dérivable sur  $\mathbb{R}$  et pour tout réel  $x$  on a :

$$f''(x) = e^x - e^{-x}.$$

$$f''(x) = 0 \Leftrightarrow e^x - e^{-x} = 0 \Leftrightarrow e^x = e^{-x} \Leftrightarrow x = -x \Leftrightarrow x = 0.$$



$$f(0) = 0.$$

$f''$  s'annule en 0 et change de signe, donc 0 est un point d'inflexion pour la courbe (C).

b) Une équation de la tangente  $T$  à la courbe (C) au point  $O$  est :

$$y = f'(0) \cdot (x - 0) + f(0) = 3x.$$

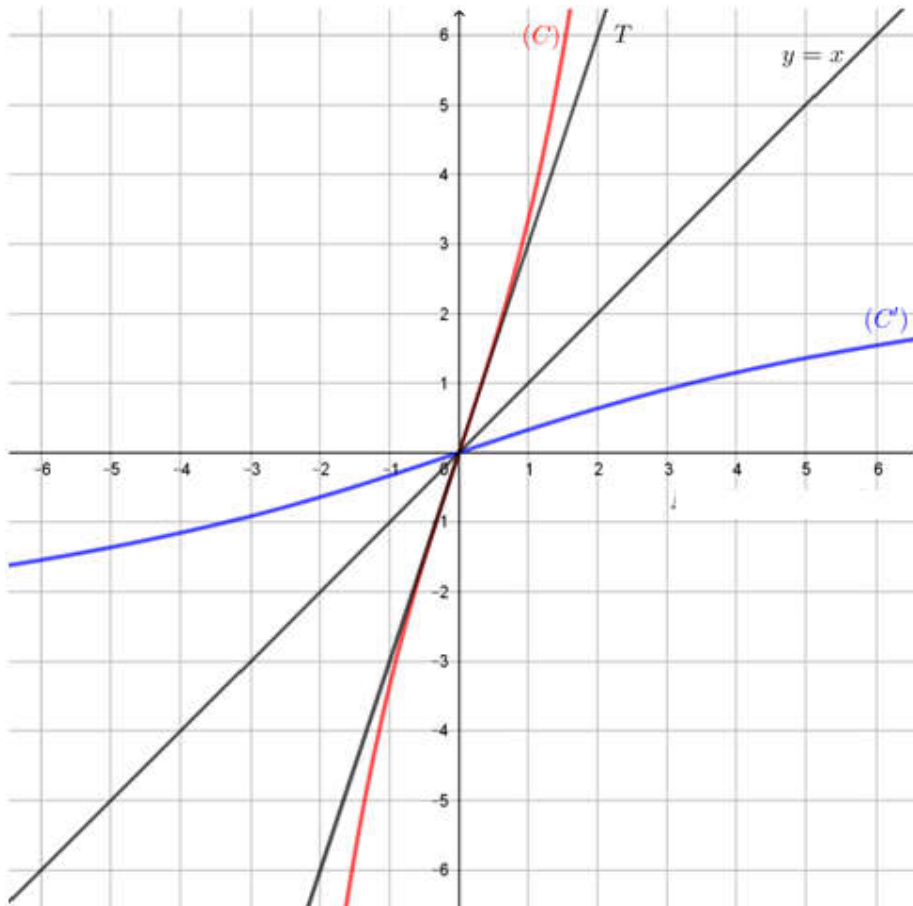
4) a)  $f$  est continue et strictement croissante sur  $\mathbb{R}$ , donc elle réalise une bijection de  $\mathbb{R}$  sur  $f(\mathbb{R}) = \mathbb{R}$

b)  $f(0) = 0$ .

$f$  est dérivable en 0 et  $f'(0) = 3 \neq 0$ , alors  $f^{-1}$  est dérivable en 0.

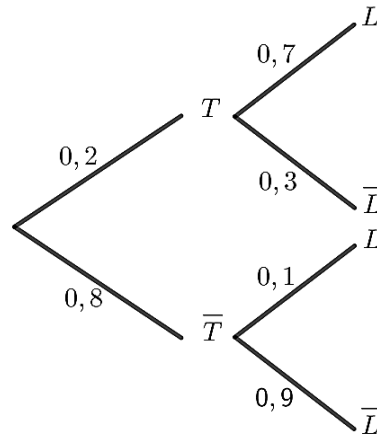
$$(f^{-1})'(0) = \frac{1}{f'(f^{-1}(0))} = \frac{1}{f'(0)} = \frac{1}{3}$$

5) Les courbes (C) et (C') sont symétriques par rapport à la droite d'équation  $y = x$ .



## Exercice 4

1) a) L'arbre pondéré :



b)  $p(T \cap L) = p(L/T) \times p(T) = 0,7 \times 0,2 = 0,14$ .

c) Appliquons la formule des probabilités totales :

$$p(L) = p(L \cap T) + p(L \cap \bar{T}) = 0,14 + p(L/\bar{T}) \times p(\bar{T}) = 0,14 + 0,1 \times 0,8 = 0,22.$$

d) La probabilité pour que le client achète un tapis ou un lustre :

$$p(L \cup T) = p(L) + p(T) - p(L \cap T) = 0,22 + 0,2 - 0,14 = 0,28.$$

2) a) Un client achète au plus un tapis et un lustre.

Dépense (en dinars) : $x_i$	0	50	150	200
$p(X = x_i) = p_i$	0,72	0,08	0,06	0,14

- $p_1 = p(X = 0) = p(\bar{L} \cap \bar{T}) = 0,9 \times 0,8 = 0,72$ .
- $p_2 = p(X = 50) = p(L \cap \bar{T}) = 0,1 \times 0,8 = 0,08$ .
- $p_3 = p(X = 150) = p(\bar{L} \cap T) = 0,3 \times 0,2 = 0,06$ .
- $p_4 = p(X = 200) = p(L \cap T) = 0,14$ .

b) L'espérance mathématique de  $X$  :

$$E(X) = 0 \times 0,72 + 50 \times 0,08 + 150 \times 0,06 + 200 \times 0,14 = 41.$$

41 désigne la dépense moyenne d'un client en dinars.